



COMISIÓN NACIONAL DE LOS  
MERCADOS Y LA COMPETENCIA

# TEST DE CAPACIDADES

VERBAL, DE RAZONAMIENTO ABSTRACTO Y NUMÉRICO

27 mayo 2018



## PARTE A: CAPACIDAD VERBAL.

1. ¿Qué palabra se utiliza con el sentido de saltarse una ley o una orden?

- a. Infligir.
- b. Inflijir.
- c. Infringir.
- d. Infrinjr.

2. ¿Cuál es la forma incorrecta?

- a. Exuberante.
- b. Estrujar.
- c. Esonerar.
- d. Exhortar.

3. ¿Cuál de las siguientes formas es correcta?

- a. Elijo.
- b. Elige.
- c. Elegir.
- d. Las tres son correctas.

4. ¿Qué palabra está escrita correctamente?

- a. Coecho.
- b. Ahondar.
- c. Exumar.
- d. Hacecho.

5. ¿Qué palabra completa esta frase: *¡\_\_\_\_\_ va! ¡Cómo no me había dado cuenta!*

- a. Ahí
- b. Hay
- c. Ay
- d. Ninguna de las anteriores.

**6. ¿Cuál es la forma correcta?**

- a. Expectador.
- b. Espectante.
- c. Expectáculo.
- d. Espectacular.

**7. ¿Qué opción completa correctamente la siguiente frase: *No sé \_\_\_\_\_ está Bulgaria?***

- a. adónde
- b. adonde
- c. dónde
- d. donde

**8. ¿Qué opción es correcta?**

- a. En la fiesta, Juan sonrió a María.
- b. Ayer Juan se rió abiertamente de María.
- c. Juan nunca se fío de Pedro.
- d. Ninguna de las anteriores.

**9. ¿Cuál es la opción correcta?**

- a. Lo hice rápido; sino, era imposible.
- b. No lo hizo Juan, si no Pedro.
- c. Que lo haga Juan y, si no, María.
- d. Ninguna de las tres es correcta.

**10. ¿Cuál de las siguientes es la forma correcta?**

- a. Escarbar.
- b. Excarbar.
- c. Excarvar.
- d. Escarvar.

**11. ¿Cuál es la opción correcta?**

- a. Concrección.
- b. Objección.
- c. Inyección.
- d. Indiscrección.

**12. ¿Qué palabra es más parecida en su significado a *displicente*?**

- a. Afanoso.
- b. Desdeñoso.
- c. Variopinto.
- d. Aventurero.

**13. ¿Cuál es la opción incorrecta?**

- a. A mi hermana la llamaron por teléfono.
- b. A mi hermana la atropellaron.
- c. A mi hermana la sacaron de quicio.
- d. A mi hermana la preguntaron si iba a venir.

**14. ¿Cuál es la opción correcta?**

- a. La papelería está situada más allá de la farola.
- b. No quiero que haya más discusiones.
- c. Dice que se halla en un verdadero aprieto.
- d. Las tres son correctas.

**15. ¿Qué palabra puede completar esta frase: *Yo no soy distinta \_\_\_\_ mi madre?***

- a. a
- b. de
- c. que
- d. Valen las opciones a. y b.

**16. ¿Cómo completarías la frase: *La discusión empezó porque hubo varios \_\_\_\_\_ entre ellos?***

- a. mal entendidos
- b. malos entendidos
- c. malosentendidos
- d. malentendidos

**17. ¿Qué palabra está bien escrita?**

- a. Precavido.
- b. Revelión.
- c. Conchavarse.
- d. Aerrante.

**18. ¿Qué locución se puede utilizar para indicar relación con algo?**

- a. *Con relación a o en relación con.*
- b. *En relación a o con relación a.*
- c. *Solo en relación a.*
- d. *Solo con relación a.*

**19. ¿Cuál de las siguientes palabras sale de lo común en relación al significado de las otras tres?**

- a. Coadyuvar.
- b. Colaborar.
- c. Coincidir.
- d. Cooperar.

**20. Sinónimo de destituido:**

- a. Dimitido.
- b. Despojado.
- c. Contratado.
- d. Cesado.

## PARTE B: CAPACIDAD DE RAZONAMIENTO ABSTRACTO Y NUMÉRICO.

21. Continúa la serie:

4      5      9      14      23      ?

- a. 39
- b. 33
- c. 35
- d. 37

22. Realiza la siguiente operación:  $\frac{4}{3}$  de 36 =

- a. 27
- b. 40
- c. 48
- d. 58

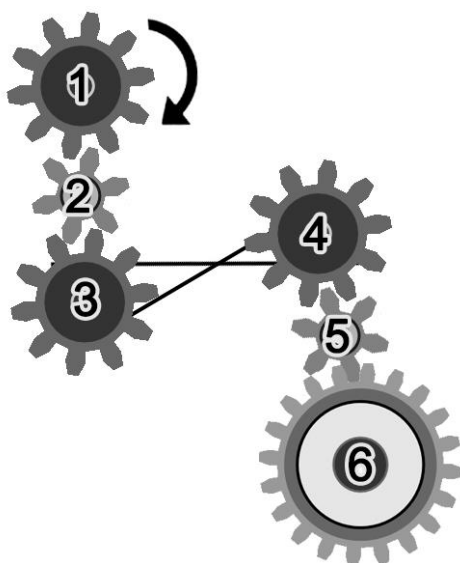
23. ¿Cuál es el número mayor?

- a.  $\frac{25}{12}$
- b.  $\frac{10}{4}$
- c.  $\frac{10}{5}$
- d.  $\frac{10}{3}$

24.  $9 * 4 - 4 * 5/2$  es igual a:


- a. 26
- b. 8
- c. 34,5
- d. 0

25. Un mago tiene una baraja trucada donde algunas cartas están marcadas (la marca está en el reverso); en esta baraja se cumple el siguiente axioma “detrás de cada marca hay siempre un AS”. ¿Cuál de las siguientes afirmaciones es cierta?
- Si tengo un AS entonces la carta está marcada.
  - Si no está marcado entonces detrás no hay un AS.
  - Si no tengo un AS entonces no está marcado.
  - Si está marcado entonces detrás no hay ningún AS.
26. Al despedirse 8 amigas se dan la mano. ¿Cuántos apretones de mano se dan en total?
- 15
  - 64
  - 56
  - 28
27. Un leñador es capaz de cortar un tronco de un sólo hachazo. Con un tronco de 4m, ¿cuantos hachazos tiene que hacer para conseguir 4 troncos más pequeños?
- 3
  - 4
  - 5
  - 6
28. Señalar qué engranajes giran en el mismo sentido que el 1:



- 2 y 4
- 3 y 4
- 3 y 5
- 4 y 6

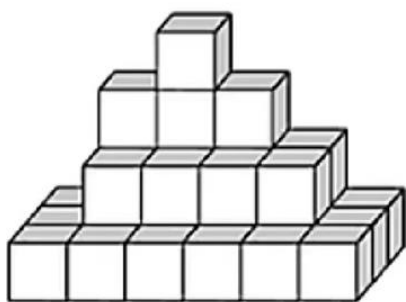
29. Continúa la serie:



30. En una tienda tienen un ordenador en venta, le hacen una primera rebaja de 30%, y después sobre el precio rebajado una segunda rebaja del 40%. ¿Cuál ha sido la rebaja total en %?

- a) 12%
- b) 42%
- c) 58%
- d) 70%

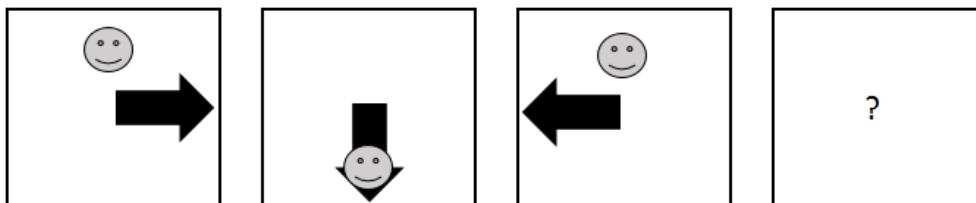
31. ¿Cuántos cubos hay?



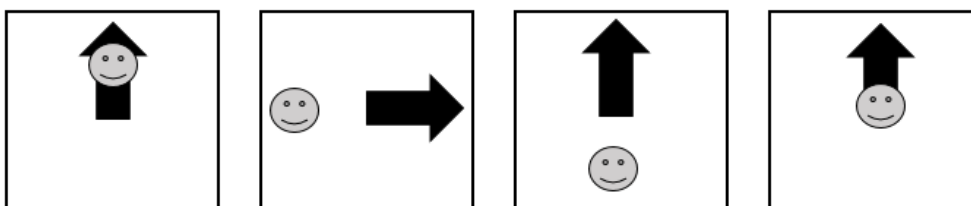
- a. 19
- b. 26
- c. 27
- d. 30



**32. Continúa la serie:**



**Soluciones**



A)

B)

C)

D)

**33. ¿Qué figura no forma parte de la serie?**



A)

B)

C)

D)

**34. Si lanzas una moneda dos veces, ¿cuál es la probabilidad de obtener dos veces cara?**

- a. 15%
- b. 25%
- c. 50%
- d. 75%

**35. Miguel tiene 4 años. Juan tiene el doble de años que Miguel. ¿Cuántos años tendrá Juan dentro de 10 años?**

- a. 28 años.
- b. 20 años.
- c. 14 años.
- d. Ninguno de los anteriores.

36. En la siguiente sucesión de números hay uno que está equivocado. ¿Cuál es?

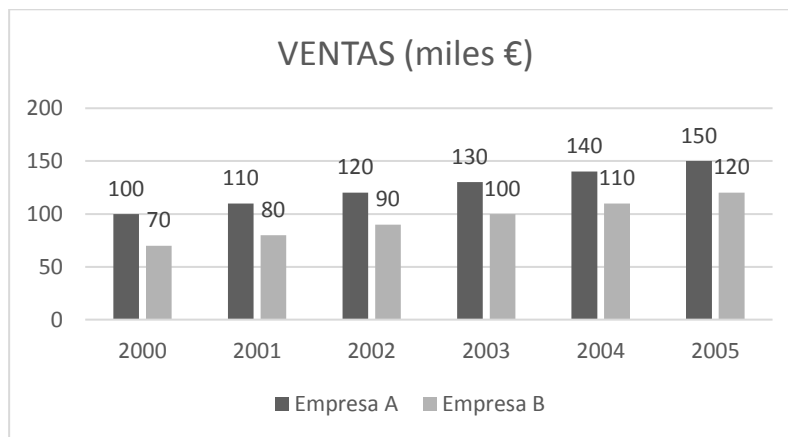
1 – 2 – 4 – 7 – 8 – 10 – 13 – 14 – 15 – 19 – 20 – 22 – 25...

- a. 8
- b. 10
- c. 13
- d. 15

37. Un lápiz y un cuaderno cuestan 1,10€ en total. Si el cuaderno cuesta 1€ más que el lápiz, ¿cuánto cuesta el lápiz?

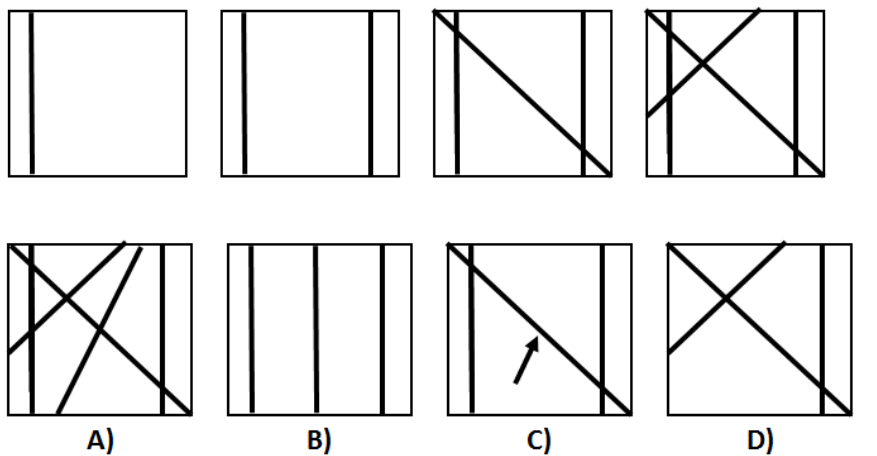
- a. 0,05€
- b. 0,10€
- c. 0,15€
- d. Ninguna de las anteriores.

38. Según el siguiente gráfico. Indica cuál de las siguientes afirmaciones es verdadera

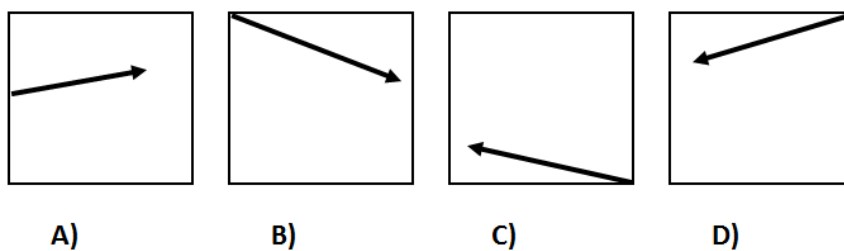


- a. La empresa A ha tenido un crecimiento en el periodo 2000-2005 del 150%.
- b. La empresa B ha tenido un crecimiento en términos porcentuales en el periodo 2000-2005 mayor que la empresa A.
- c. La empresa B creció todos los años en la misma proporción.
- d. Ninguna es correcta.

39. Elija la alternativa que continúa la siguiente serie



40. ¿Cuál es el dibujo más diferente?



**HA TERMINADO LA PRUEBA. MUCHAS GRACIAS.**



**COMISIÓN NACIONAL DE LOS  
MERCADOS Y LA COMPETENCIA**