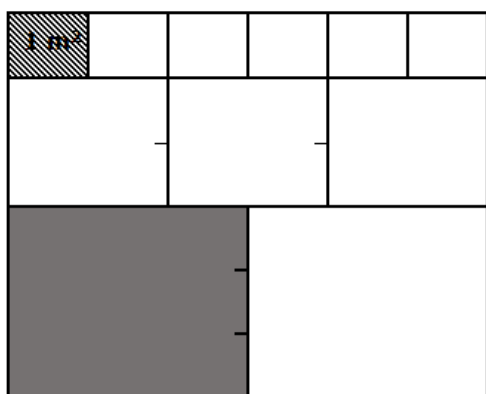


TEST CAPACIDADES

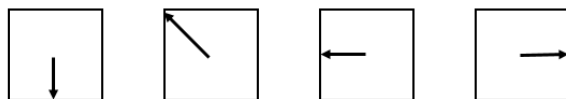
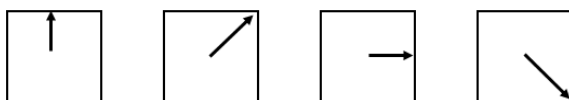
CAPACIDAD DE RAZONAMIENTO BÁSICO ABSTRACTO

1. Una persona realiza un recorrido de diez km y medio en total en dos trayectos. En el primer recorrido sólo anda dos km y setecientos cincuenta metros. ¿Cuánto recorrió en el segundo trayecto?
- 7 km 50m
 - 7 km 750m
 - 8 km 50m
 - 8 km 750m

2. Si el cuadrado pequeño, que está sombreado en la figura, tiene 1 m² de área, ¿qué área tiene el cuadrado sombreado grande?



- 3m²
 - 6 m²
 - 9 m²
 - 12 m²
3. Selecciona la figura que continúa la serie.



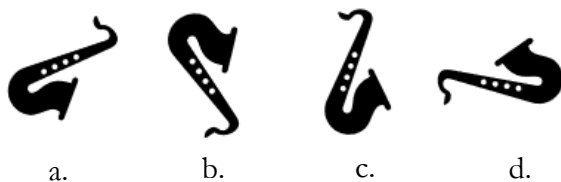
- a. b. c. d.
4. Continúa la serie:

2 5 10 17 26

- 37
- 36
- 35
- 34

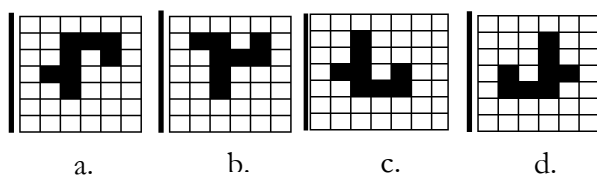
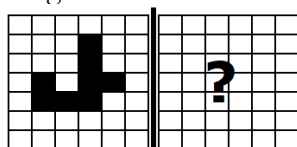
Primera parte de la fase de oposición
OEP 2018-2019

5. Selecciona una figura distinta a las demás que no se puede conseguir girando (en el plano) cualquier otra.



6. Pedro corre 700 m en 7 minutos, Juan 200 m en 3 minutos y 50 segundos, y Luis corre 1 km en 9 minutos. La velocidad de cada uno de ellos es constante, ¿quién corre más deprisa?
- Juan
 - Luis
 - Pedro
 - Todos corren igual de veloces

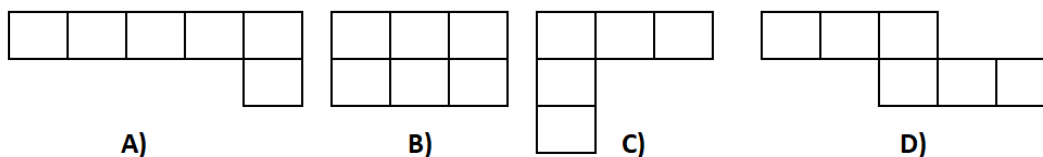
7. Que figura se obtendría si hacemos una simetría respecto al eje vertical de la siguiente figura:



8. Un coche recorre 240 km a una velocidad de 120 km/hora. En el camino de vuelta, el coche transita a una velocidad de 60 km/hora. ¿Cuál es el tiempo total que ha circulado el coche?
- 2 horas
 - 3 horas
 - 5 horas
 - 6 horas
9. Indica qué fracción es mayor:
- $\frac{9}{3}$
 - $\frac{7}{6}$
 - $\frac{10}{4}$
 - todas son iguales
10. En una tienda de ropa, un vestido tiene un 25% de margen de beneficio sobre su precio de venta. Si el precio de venta es 120€, ¿qué margen de beneficio se obtiene por ese vestido?
- 30,0€
 - 60,0€
 - 24,5€
 - 12,5€

Primera parte de la fase de oposición
OEP 2018-2019

11. ¿Cuál de los siguientes desplegables es un desarrollo del cubo?



12. De los siguientes enunciados, ¿cuál indica un mayor tiempo?

- a. 2 horas, 3 cuartos de hora y 20 minutos
- b. 1 hora, 120 minutos y 30 segundos
- c. 3 horas y dos minutos
- d. 2 horas y media y 10 minutos

13. En una granja con 90 animales, dos tercios de todos los animales son gallinas, un quinto de todos los animales son gallos y el resto patos. ¿Cuántos animales hay de la última clase?

- a. 16
- b. 20
- c. 12
- d. 10

14. Indique cuál es la cifra con mayor valor absoluto de todas las siguientes:

- a. - 0,750
- b. 25,0
- c. -123,0
- d. 14,3

15. Dividir un número entre 0,25 es lo mismo que:

- a. Multiplicarlo por 4
- b. Dividirlo entre 4
- c. Multiplicarlo por 0,25
- d. Multiplicarlo por 5

16. Juan sale de casa con 50 euros. Si le pone 30 euros de gasolina al coche y gasta la mitad de lo que le queda en almorzar, ¿con cuánto dinero vuelve a casa?

- a. 5
- b. 10
- c. 15
- d. 20

17. Una persona desea invertir 10.000€ en dos empresas de modo que el ingreso total por año sea de 900€. En la empresa A se paga el 5% anual y en la empresa B, con mayor riesgo, se paga un 10% anual. ¿Cuánto debe invertir en cada empresa?

- a. 3.000 en la A y 7.000 en la B
- b. 2.000 en la A y 8.000 en la B
- c. 1.000 en la A y 9.000 en la B
- d. 5.000 en la A y 5.000 en la B

Primera parte de la fase de oposición
OEP 2018-2019

18. Un abrigo tiene un precio de 150€ y en rebajas le aplican un descuento del 10%. ¿Cuál es el precio final del abrigo en rebajas?
- a. 100€
 - b. 120€
 - c. 140€
 - d. 135€
19. Juan y María nacieron el 28 de febrero de 1921 y el 8 de agosto de 1926. ¿Cuántos años cumplidos tenían el 4 de abril de 2005?
- a. 83 y 78 años
 - b. 83 y 79 años
 - c. 84 y 78 años
 - d. 84 y 79 año
20. ¿Qué ocupa mayor superficie?
- a. Una hectárea
 - b. Un hectómetro cuadrado
 - c. 10.000m²
 - d. Son equivalentes

**Primera parte de la fase de oposición
OEP 2018-2019**

CAPACIDAD VERBAL

21. Seleccione la opción adecuada: «Veremos _____ en la trama».
- quién es quien
 - quién es quién
 - quien es quién
 - quien es quien
22. ¿Qué palabra se utiliza con el sentido de “saltarse una ley o una orden”?
- Infligir
 - Inflijir
 - Infringir
 - Infrinjr
23. ¿Cuáles son las formas adecuadas?
- Fregasuelos y fregaplatos
 - Friegasuelos y fregaplatos
 - Friegasuelos y friegaplatos
 - Fregasuelos y friegaplatos
24. Seleccione la grafía que corresponda: «Ayer compramos un _____ para el perro».
- anti-rábico
 - antirrábico
 - anti rábico
 - Las tres opciones son válidas
25. Complete con la opción correcta: «El equipo ganó la _____ Copa del Rey».
- doceava
 - duodécima
 - décimo segunda
 - Las opciones a y b son válidas
26. ¿Qué es una “tahona”?
- Una planta
 - Una panadería
 - Un tipo de espada
 - Un tipo de comida
27. Indique cuál es el participio del verbo “teñir”.
- Teñido
 - Tinto
 - Tiñado
 - Las opciones a y c son correctas
28. En la siguiente frase, ¿qué palabra es incorrecta?: «Allá donde haya huído lo encontraremos».
- Allá
 - haya
 - huído
 - donde

Primera parte de la fase de oposición
OEP 2018-2019

29. Según el diccionario de la Real Academia de la Lengua española, ¿cuál de estos femeninos es adecuado?
- Presidenta
 - Testiga
 - Portavoza
 - Miembra
30. ¿Cuál de las siguientes formas es correcta?
- Elijo
 - Elige
 - Elegir
 - Las tres son correctas
31. ¿Qué palabra se utiliza en el sentido de “ubicuo”?
- Omnipresente
 - Restringido
 - Eterno
 - Poderoso
32. ¿Cuál de las siguientes es la forma correcta?
- Escarbar
 - Excarbar
 - Excarvar
 - Escarvar
33. ¿Cuál de las siguientes opciones define mejor la palabra “atonía”?
- Propio del átomo
 - Debilidad
 - Desafino
 - Sorpresa
34. Si quiero convencer a Carlos, ¿cuál será la forma adecuada de indicarlo?
- Yo lo convezco
 - Yo lo convezgo
 - Yo lo convenzo
 - Yo lo convenzco
35. Seleccione el sentido del verbo “incoar”.
- Comenzar algo
 - Detener un proceso
 - Depende del contexto
 - Incapacitar
36. ¿Qué significa “insoslayable”?
- Que no se puede mirar
 - Que no se puede alcanzar
 - Que no se puede rellenar
 - Que no se puede evitar
37. ¿Cuál es la forma correcta?
- Veintidós

Primera parte de la fase de oposición
OEP 2018-2019

- b. Ventidós
 - c. Ventidos
 - d. Veintidos
38. ¿Cuál es la forma correcta para la palabra que se usa con el significado de “oposición, discordia, contrariedad”?
- a. Desaviniencia
 - b. Desaveniencia
 - c. Desavenencia
 - d. Desavinencia
39. ¿Cuáles son las formas correctas para “exceder cierto límite” y “conseguir (algo) con peticiones”, respectivamente?
- a. Revasar y recavar
 - b. Revasar y recabar
 - c. Rebasar y recavar
 - d. Rebasar y recabar
40. ¿Qué significa histriónico?
- a. Que está muy nervioso por tener que hablar en público
 - b. Que actúa con gestos exagerados
 - c. Que olvida las cosas con facilidad
 - d. Que hace mucha gracia